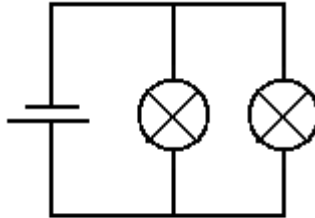


Baue diese Schaltung auf.

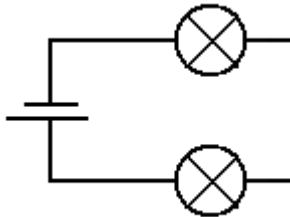


Wie heißt diese Schaltung?

Was passiert, wenn Du eine Glühlampe herausdrehst?

Sind die Glühlampen heller oder dunkler als bei einer Schaltung mit nur einer Glühlampe?

Baue diese Schaltung auf.

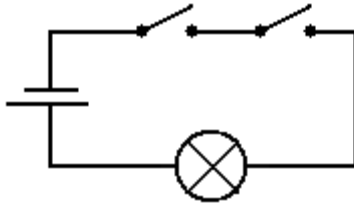


Wie heißt diese Schaltung?

Was passiert, wenn Du eine Glühlampe herausdrehst?

Sind die Glühlampen heller oder dunkler als bei einer Schaltung mit nur einer Glühlampe?

Baue diese Schaltung auf.



Wie heißt diese Schaltung?

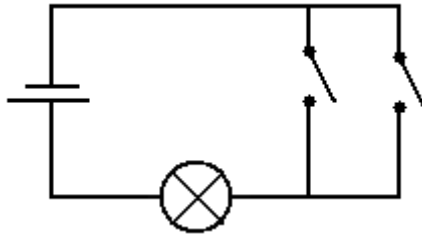
Die Lampe leuchtet, wenn ich den ersten Schalter

_____ den zweiten Schalter schließe.

Wie viele Schalter musst Du schließen, damit die Lampe leuchtet?

Wie viele Kabel benötigst Du?

Baue diese Schaltung auf.



Wie heißt diese Schaltung?

Die Lampe leuchtet, wenn ich den ersten Schalter

_____ den zweiten Schalter schließe.

Wie viele Schalter musst Du schließen, damit die Lampe leuchtet?

Wie viele Kabel benötigst Du?
